


ข้อสอบใบขับขี่หมวดที่ 3 – เครื่องหมายพื้นทาง

1. เมื่อพบเครื่องหมายนี้ ผู้ขับขี่ควรปฏิบัติอย่างไร?



ก. เพิ่มความระมัดระวังแล้วหยุดรถ

ข. เพิ่มความระมัดระวังเขตหยุดรับ-ส่ง

ค. ขับรถให้ช้าลงถ้าเห็นว่าจะไม่ปลอดภัยต่อรถคันอื่นหรือคนเดินเท้าในทางข้างหน้า ต้องหยุดรถก่อนถึงเส้นให้ทาง

ง. เพิ่มความระมัดระวังแล้วจอดรถ

2. เครื่องหมายนี้ คือเครื่องหมายอะไร?



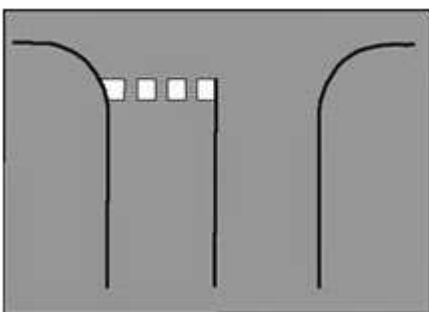
ก. เส้นชะลอความเร็ว

ข. ให้เลี้ยวรถได้

ค. ห้ามเลี้ยวรถ

ง. ให้จอดรถได้

3. เมื่อพบเครื่องหมายนี้ ผู้ขับขี่ควรปฏิบัติอย่างไร?




ก. ให้ผู้ขับขี่ชะลอความเร็วลงและรีบเร่งเครื่องไปก่อน

ข. ขับรถให้ช้าลงหากเห็นรถคันอื่นหรือคนเดินเท้าในทางขวางหน้า ต้องหยุดรถก่อนถึงแนวเส้นให้ทาง

ค. ให้ผู้ขับขี่ขับรถอย่างรวดเร็ว

ง. ให้ผู้ขับขี่ ขับรถให้ช้าลงแล้วแซงได้

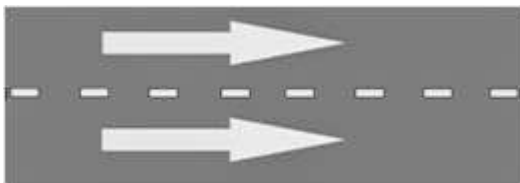
4. เมื่อพบเครื่องหมายนี้ ผู้ขับขี่ควรปฏิบัติอย่างไร



ก. ขับรถภายในช่องจราจร ห้ามแซงห้ามขับรถผ่านหรือคร่อมเส้นโดยเด็ดขาด

- ข. ขับรถให้ช้าลงให้เลี้ยวขวา
- ค. ขับรถไปทางด้านขวา ให้เลี้ยวซ้าย
- ง. เพิ่มความระมัดระวังห้ามเลี้ยวซ้าย

5. เมื่อพบเครื่องหมายนี้ ผู้ขับขี่ควรปฏิบัติอย่างไร




ก. เพิ่มความระมัดระวังและห้ามแซง

ข. ขับรถในช่องการจราจร ห้ามคร่อมเส้น แต่แซงได้

- ค. เพิ่มความระมัดระวังห้ามเปลี่ยนช่องการจราจร
- ง. ขับรถให้ช้าลงขับรถคร่อมเส้นได้

6. เครื่องหมายนี้ หมายความว่าอย่างไร



ก. ห้ามหยุดรถทุกชนิดภายในกรอบเส้นทแยงห้ามหยุดรถยกเว้นรถที่หยุดรอเพื่อเลี้ยวขวา

- ข. รถยนต์ทุกชนิด จอดรถได้
- ค. รถยนต์ทุกชนิด หยุดรถได้
- ง. รถยนต์ทุกชนิด กลับรถได้